

РАБОТЕН ЛИСТ  
математика

1. Нацртај права  $a$  на која лежи точката  $B$  и права  $p$  на која лежи точката  $C$ !

2/

2. Нацртај права  $r$  и права  $s$  кои имаат заедничка точка  $A$ !

2/

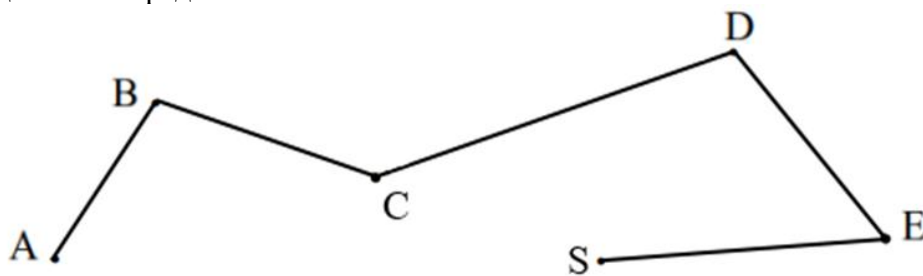
3. Нацртај отсечка  $\overline{ST} = 6 \text{ cm}$  и отсечка  $MN$  два центиметри пократка од неа!

4/

4. Нацртај една отворена и една затворена искршена линија која е составена од 4 отсечки!

2

5 Дополни ги тврдењата според сликата!



а) Именувај ја искршената линија \_\_\_\_\_

б) Искршената линија е составена од \_\_\_\_\_ отсечки

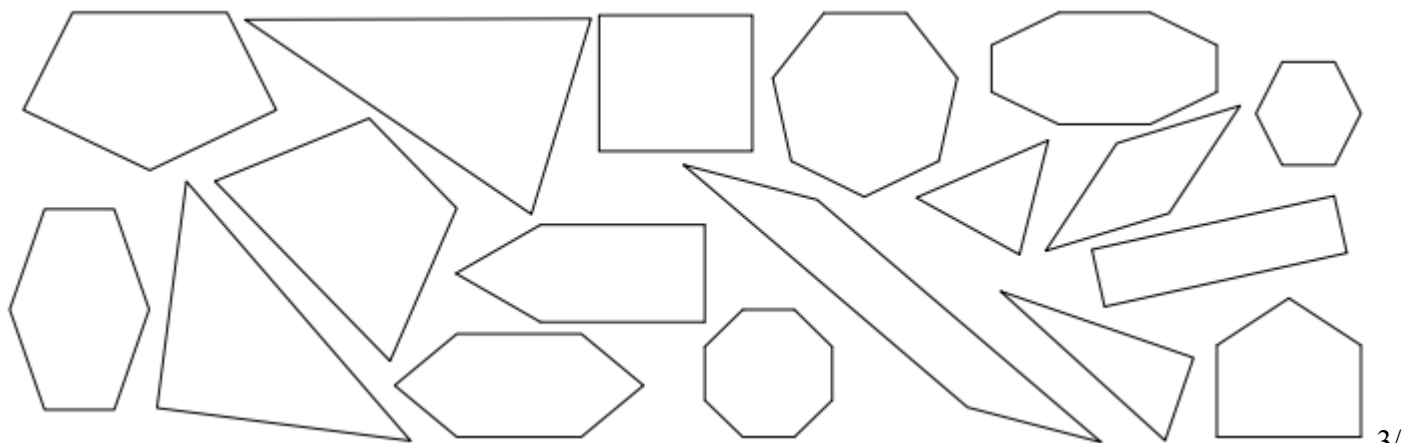
в) На искршената линија се обележани \_\_\_\_\_ точки

г) Соседни отсечки на отсечката  $AB$  се \_\_\_\_\_

д) Соседни отсечки на отсечката  $CD$  се \_\_\_\_\_

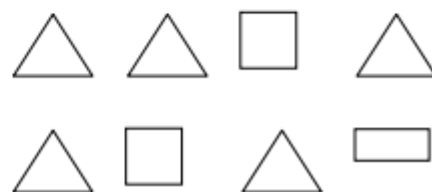
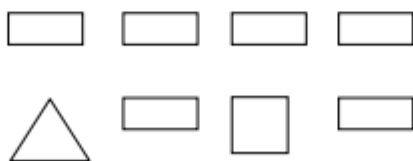
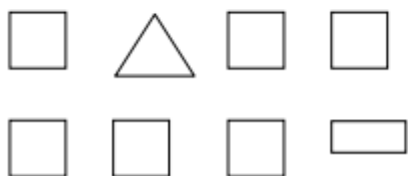
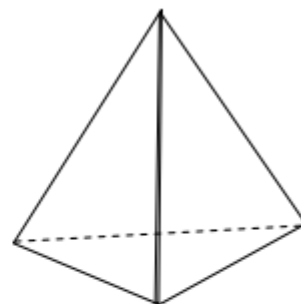
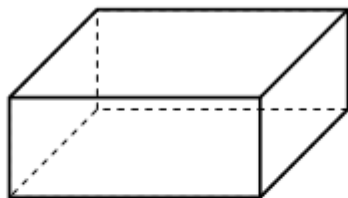
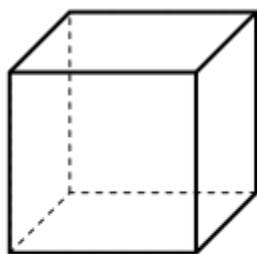
5/

6. Со зелена боја обој ги триаголниците, со жолта боја обој ги четириаголниците, со сина петаголниците, со црвена шестаголниците, со портокалова седумаголниците, со виолетова осумаголниците!

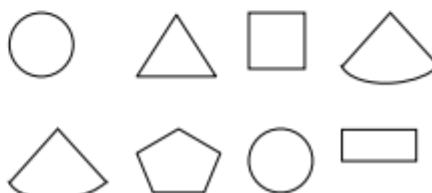
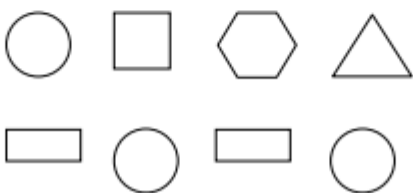
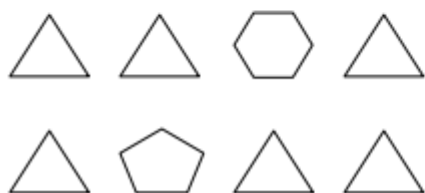
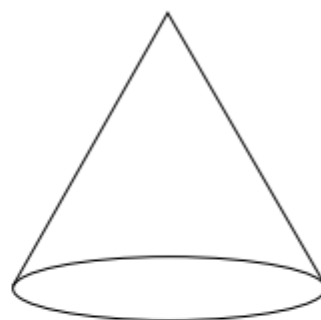
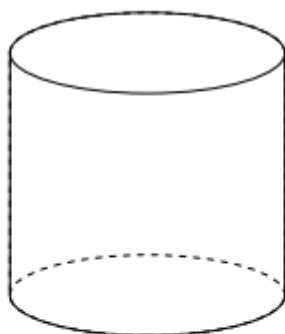
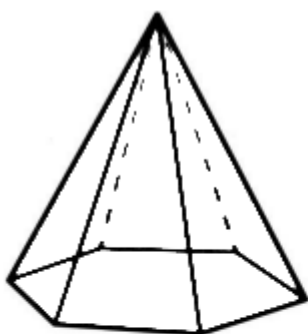


3/

7. Под секоја 3Д форма дадени се 2Д форми. Обој ги оние од кои е составена 3Д формата!



6/



име и презиме \_\_\_\_\_