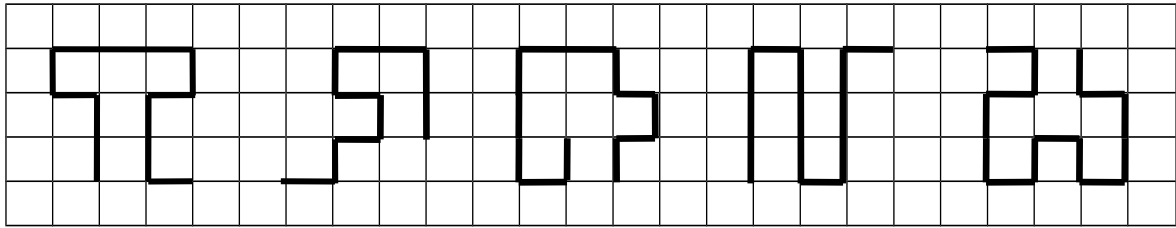


Задачи за „Кенгур„


1. Која од линиите на цртежот е најдолга?



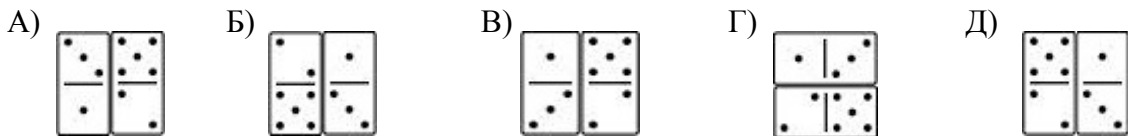
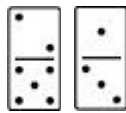
A) Б) В) Г) Д)

2. Колку вкупно нозе имаат сите животни заедно на цртежот?


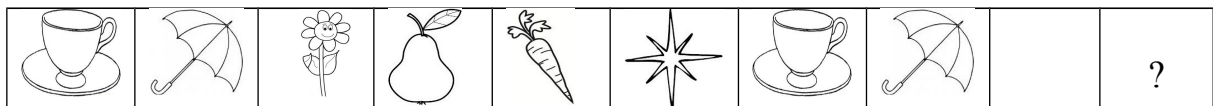
A) 8 Б) 9 В) 10 Г) 11 Д) 12



3. Која од фигурите долу не може да се добие од домината?



4. Марина ги лепи истите 6 сликички на една лента. Која сликичка треба да ја залепи на местото од прашалникот?



Задачи за „Кенгур„

5. Кој број стои на местото од цветот?

$$3 = \bigcirc + \triangle$$


$$4 = \triangle + \triangle$$

$$5 = \triangle + \square$$

$$\ast = \bigcirc + \square$$

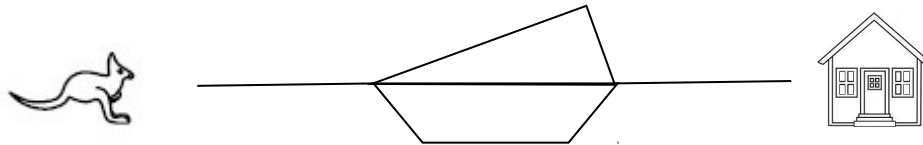
- A) 1 Б) 2 В) 3 Г) 4 Д) 5
-

6. На таблата на цртежот се поставени монети. Колку монети треба да отстраниме од таблата за во секоја колона и секој ред да има по две монети?



- A) 1 Б) 2 В) 3 Г) 4 Д) 5
-

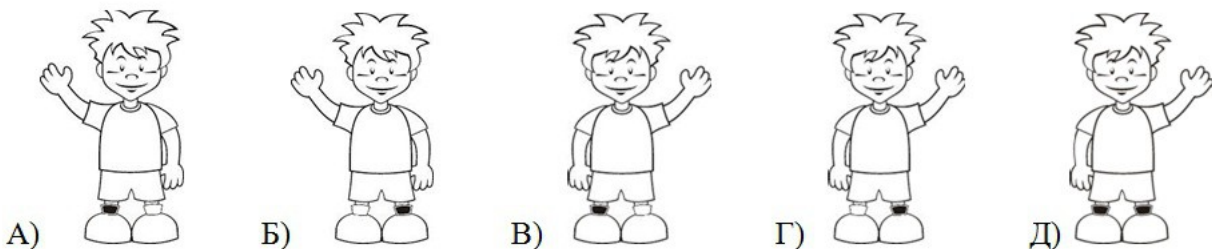
7. На колку начини може да стигне кенгурчето до куќичката?



- A) 1 Б) 2 В) 3 Г) 4 Д) 5
-



8. Ова е Аце . Која од сликите долу е неговиот одраз во огледалото?



Име и презиме
