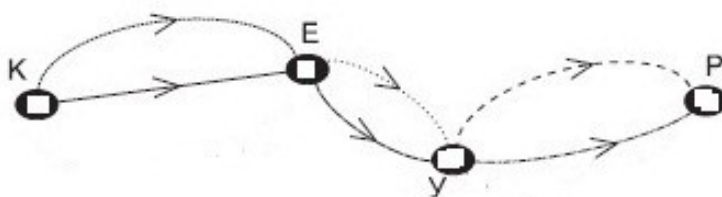


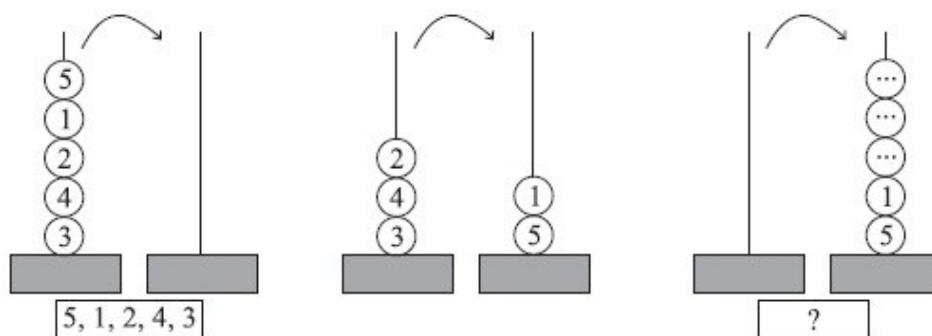
Задачи за кенгур

1. На колку начини можеш да дојдеш од буквата **К** до буквата **Р** ?



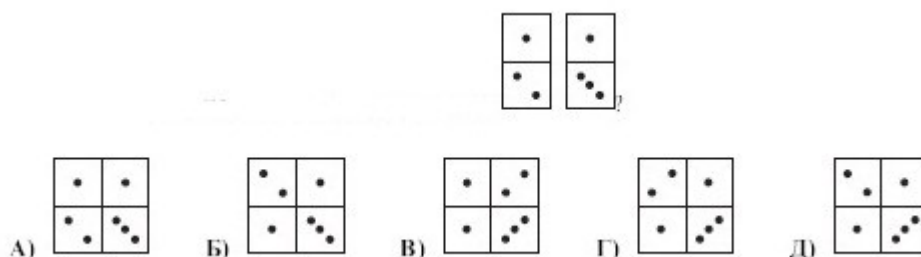
- А) 8 Б) 2 В) 5 Г) 1 Д) 7

2. Петар ги преместувал топчињата од едната на другата метална шипка. После префрлањето на топчињата, редоследот на топчињата од горе - надолу е:



- А) 5, 1, 2, 4, 3 Б) 2, 4, 3, 1, 5 В) 3, 2, 4, 1, 5 Г) 1, 2, 3, 4, 5 Д) 3, 4, 2, 1, 5

3. Која од фигурите долу не може да се добие од домината?



4.

Колку кибритчиња треба да се извадат за да се добијат три квадратчиња?

- (А) 3 (Б) 2 (В) 4 (Г) 6 (Д) 1

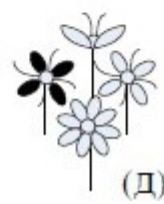
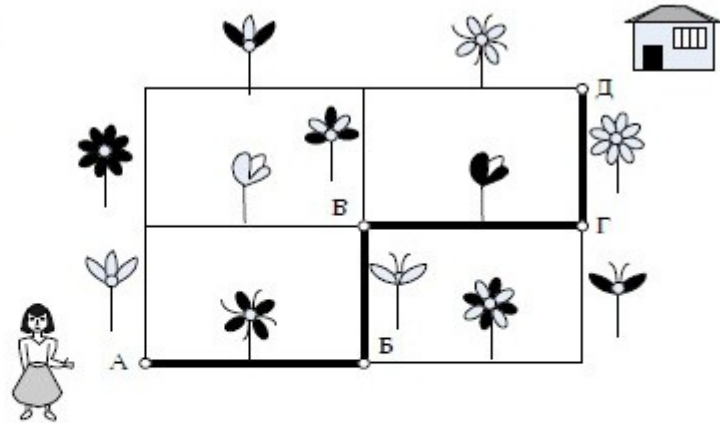


Задачи за кенгур

5.

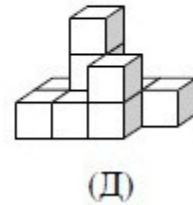
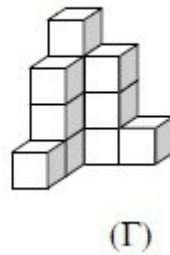
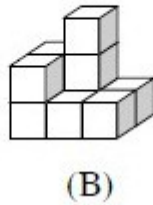
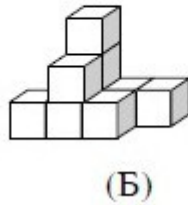
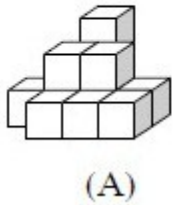
Лиза оди дома по затемнетата линија (од А до Б до В до Г до Д). По патот таа бере цвеќиња.

Кој букет ќе го однесе дома?



6.



Ева има 9 коцки. Која фигура може да ја направи?



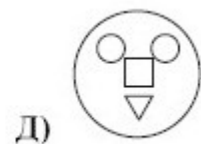
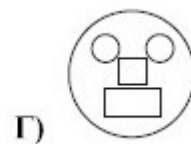
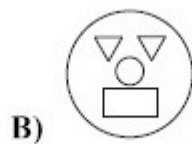
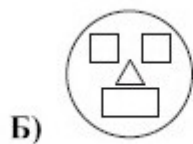
7.

Изброј ги разликите на цртежите.

(A)5 (Б)3 (B)4 (Г)2 (Д)6



8. На која слика нема триаголници?



Име и презиме