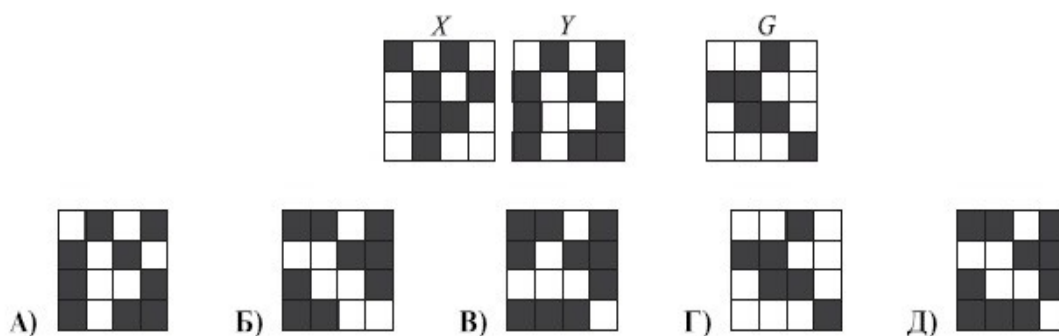


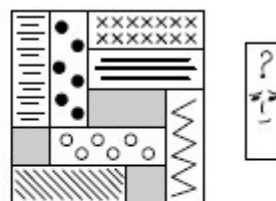
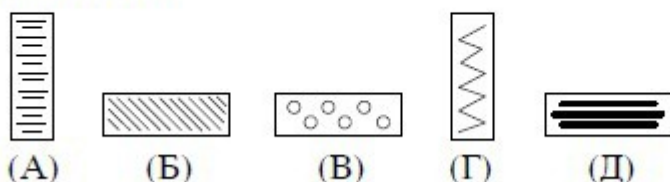
Задачи за кенгур

1. Сликата X одговара на сликата Y. Која слика одговара на сликата G?



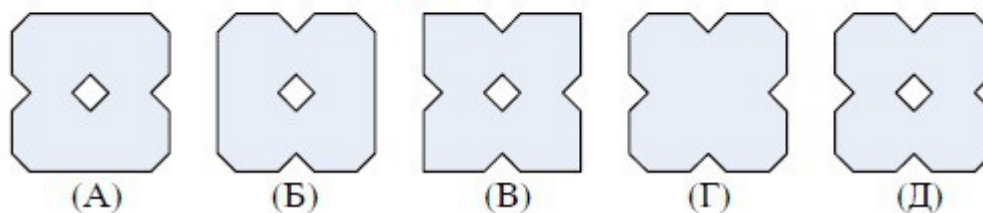
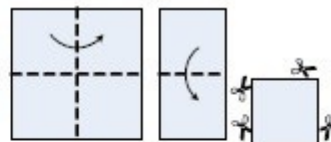
2.

Која фигура треба да се помести за да се направи место за уште една?

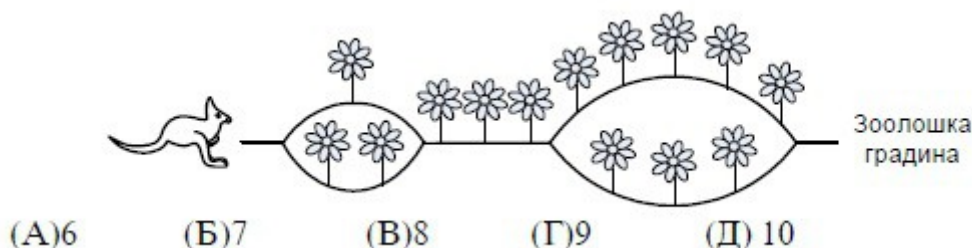


3.

Еден лист колаж хартија ја певиткуваме како на цртежот (на 4 дела). Потоа со ножици ги сечеме сите кошиња. Која фигура ќе ја добиеме кога ќе го одвиткаме листот од колаж хартија?

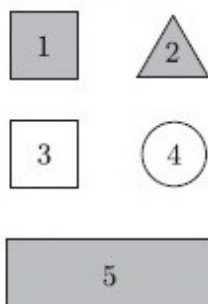


4. Кој е најголемиот број цвеќиња што ќе ги набере кенгурчето одејќи кон зоолошката градина?



Задачи за кенгур

5. Марија опишала една од петте фигури прикажани на сликата на следниов начин: не е квадрат, има сива боја, или е круг или е триаголник. Која фигура ја опишала?



- А) 1 Б) 2 В) 3 Г) 4 Д) 5

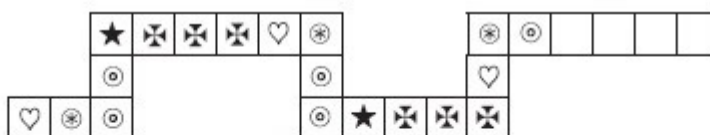
Во секој ред и во секоја колона во квадратот лево се наоѓа по еден од броевите 1, 2 и 3. Квадратот десно треба да се пополни така што во секој ред и секоја колона ќе има по еден знак. Кој знак ќе биде во полето со ?.

1	3	2
2	1	3
3	2	1

♥		
	?	
♠		♣

- А) ♠ Б) ♥ В) ♣ Г) ◇ Д) ♦

Плочките се наредени по правилото што го гледаш на сликата. Наредните три плочки се:



- А) ★ ✕ ✕ Б) ★ ⊗ ✕ В) ⊗ ✕ ✕ Г) ⊗ ★ ✕ Д) ⊗ ✕ ★

Име и презиме