

1. Во празниот шаблон внеси ги датумите за месец ноември така што **3 ноември** ќе биде во **вторник!**

П	В	С	Ч	П	С	Н

2. Во кои денови од седмицата се датумите од календарот што го пополни?

- а) 1 ноември е во \_\_\_\_\_
- б) 14 ноември е во \_\_\_\_\_
- в) 27 ноември е во \_\_\_\_\_

3. На кои датуми се деновите во календарот што го пополни? ден / месец

- а) првиот петок од ноември е на \_\_\_\_\_ . \_\_\_\_\_
- б) последната недела во ноември е на \_\_\_\_\_ . \_\_\_\_\_

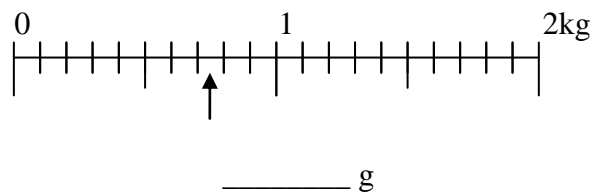
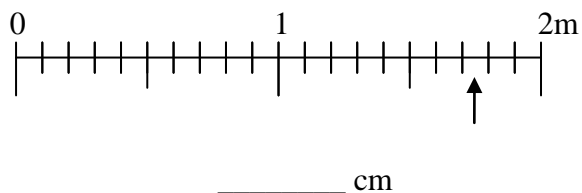
4. Запиши ги со броеви датумите (ден/месец/година)!

- а) денешниот датум \_\_\_\_\_
- б) триесет и први мај \_\_\_\_\_ 20 \_\_\_\_

5. Запиши пред секој месец со број, кој е по ред во годината!

_____ август	_____ јуни	_____ март	_____ февруари
_____ октомври	_____ јануари	_____ ноември	_____ септември
_____ декември	_____ мај	_____ јули	_____ април

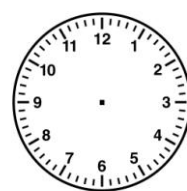
6. Запиши ја вредноста што ја покажува стрелката!



7. Нацртај стрелки за часовникот да го покажува точното време!



12:10



6:45

1. Во празниот шаблон внеси ги датумите за месец **декември** така што **29 декември** ќе биде во **среда**!

П						
В						
С						
Ч						
П						
С						
Н						

2. Во кои денови од седмицата се датумите од календарот што го пополни?

- а) 1 декември е во \_\_\_\_\_
- б) 15 декември е во \_\_\_\_\_
- в) 28 декември е во \_\_\_\_\_

3. На кои датуми се деновите во календарот што го пополни? \_\_\_\_\_ ден / месец

- а) последниот петок од декември е на \_\_\_\_\_ . \_\_\_\_\_
- б) првата недела во декември е на \_\_\_\_\_ . \_\_\_\_\_

4. Запиши ги со броеви датумите (ден/месец/година)!

- а) денешниот датум \_\_\_\_\_
- б) дваесет и осми март \_\_\_\_\_ 20 \_\_\_\_\_

5. Запиши пред секој месец со број, кој е по ред во годината!

\_\_\_\_\_ август                      \_\_\_\_\_ февруари

\_\_\_\_\_ октомври                      \_\_\_\_\_ јануари

\_\_\_\_\_ декември                      \_\_\_\_\_ мај

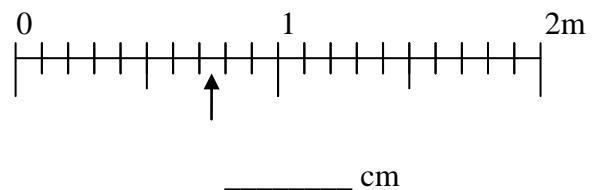
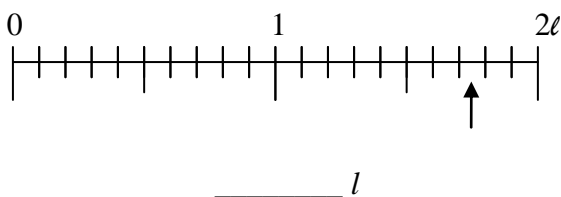
6. Запиши колку денови има секој од месеците во годината!

јуни \_\_\_\_\_                      март \_\_\_\_\_

ноември \_\_\_\_\_                      септември \_\_\_\_\_

јули \_\_\_\_\_                      април \_\_\_\_\_


7. Запиши ја вредноста што ја покажува стрелката!



8. Нацртај стрелки за часовникот да го покажува точното време!



18:10



14:30

име и презиме \_\_\_\_\_

<http://odnasataucilnica.com>