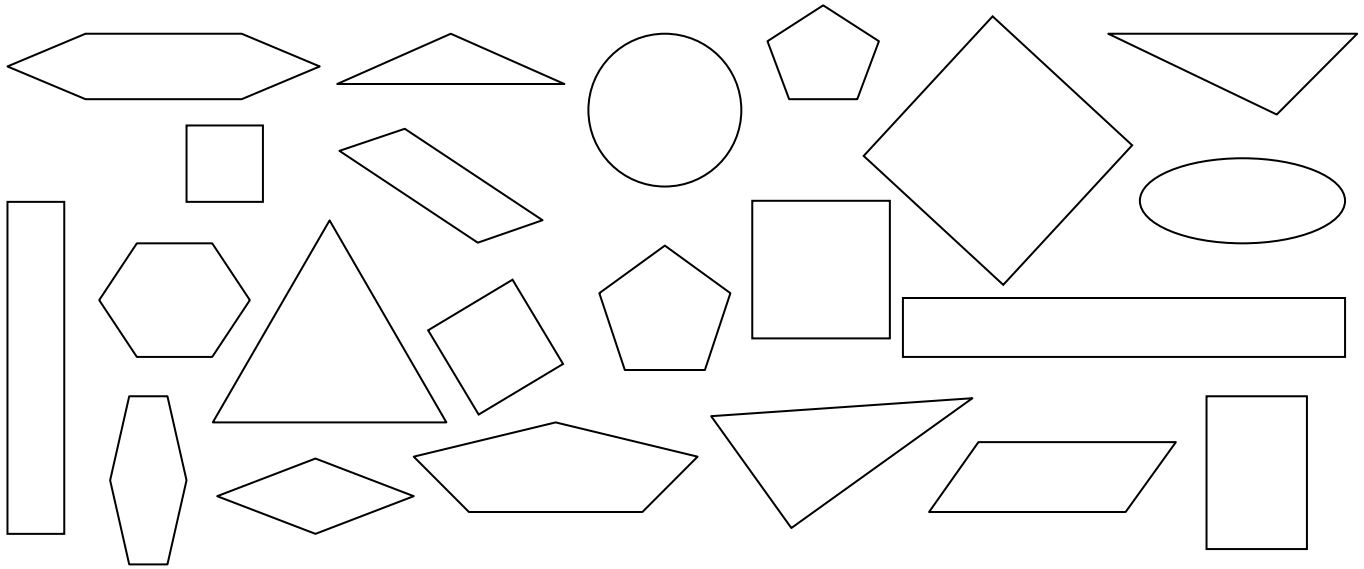


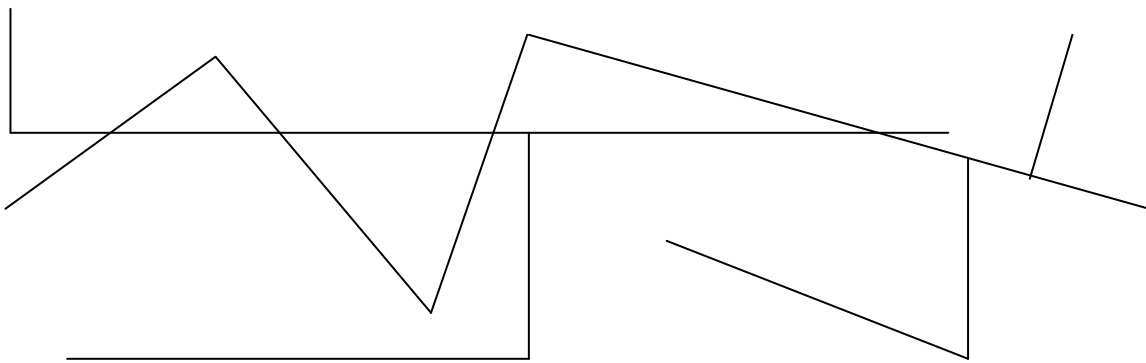
Задачи за повторување

28.4.2020

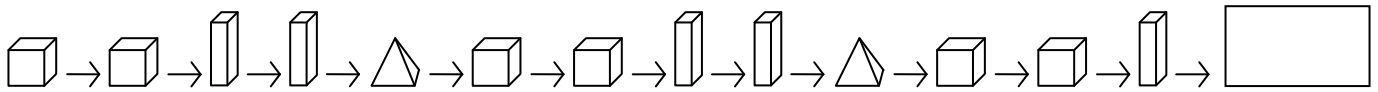
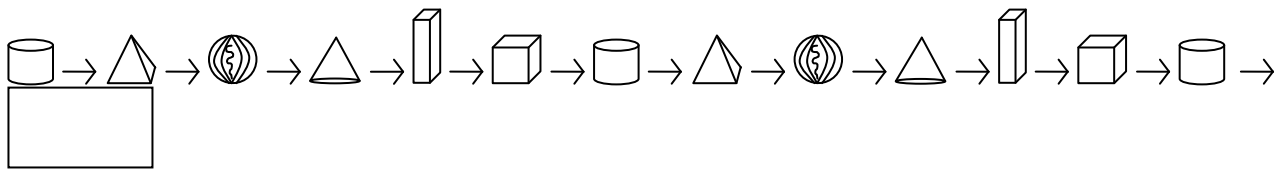
1. Со зелена боја обој ги триаголниците, со црвена боја четириаголниците, со жолта боја петаголниците и со сина боја шестаголниците!



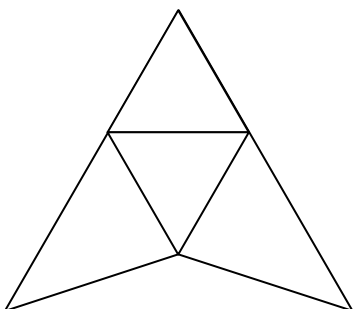
2. Означи ги правите агли на цртежот!



3. Доврши ги низите!



4. Изброј колку рамнострани, колку рамнокраки и колку разностранни триаголници има на цртежот!

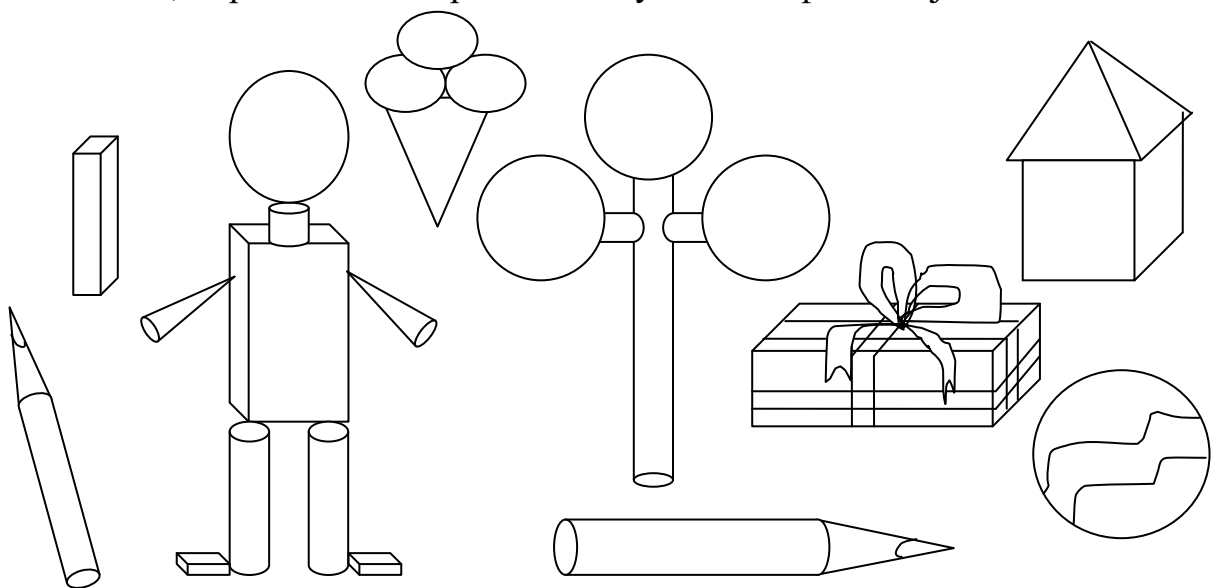


рамнострани триаголници _____

рамнокраки триаголници _____

разностранни триаголници _____

5. Обој го цртежот: цилиндарот со сина, коцката со портокалова, квадратот со виолетова, топката со жолта, пирамидата со црвена и конусот со кафеава боја!



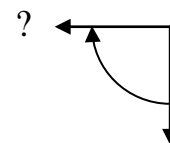
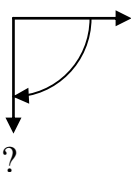
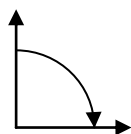
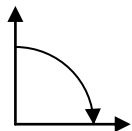
6. Обој ги во шемата со квадратчиња квадратите: (В, 6), (С, 2) и (Н, 5)

	1	2	3	4	5	6	7	8
A								
B								
C								
D								
E								
F								
G								
H								

7. Запиши каде се позиционирани обоените квадратчиња во шемата

	1	2	3	4	5	6	7	8
A								
B								
C								
D								
E								
F								
G								
H								

8. Скицирај ја положбата на фигурата во која таа ќе се најде ако ја ротираме во насока на движењето на стрелките од часовникот за прав агол!



име и презиме _____