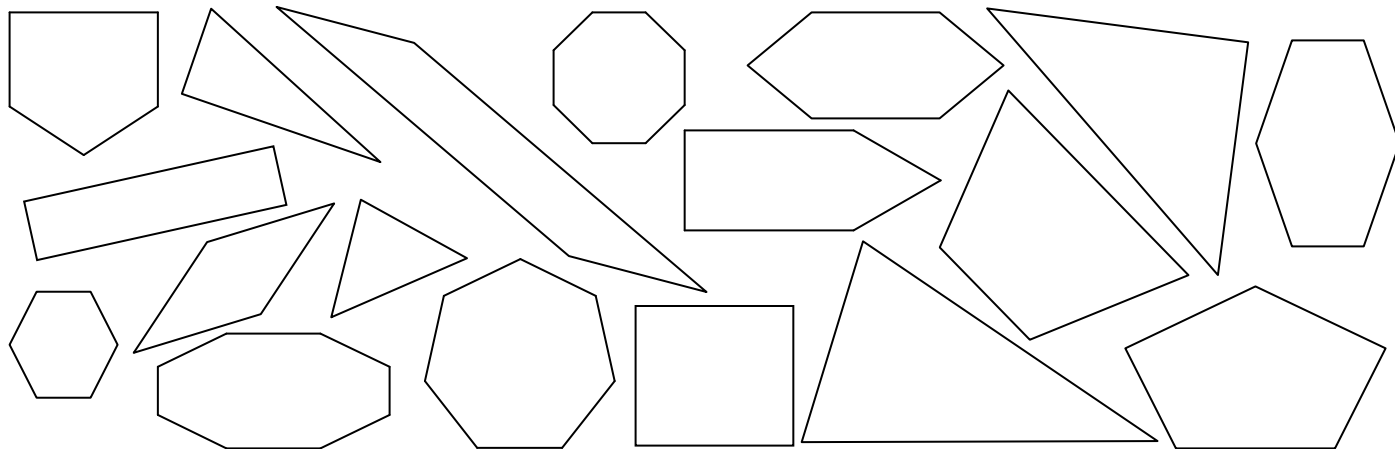







1. Обој според барањето:

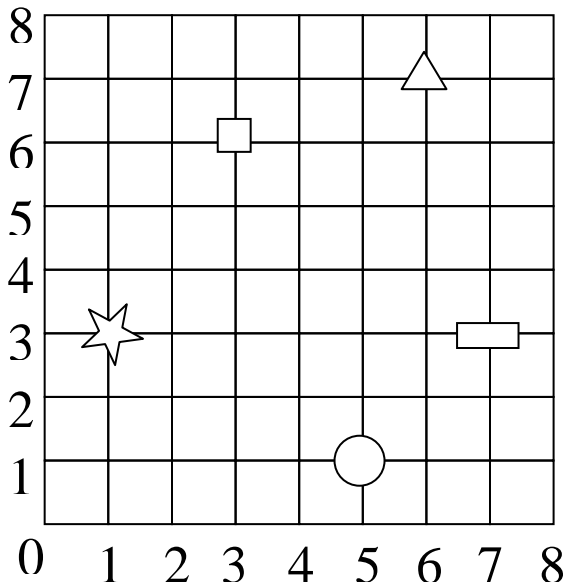
- Со зелена боја фигурите кои имаат три страни и три темиња;
- Со жолта боја фигурите кои имаат четири страни и четири темиња;
- Со црвена боја фигурите кои имаат пет страни и пет темиња;
- Со сина боја фигурите кои имаат шест страни и шест темиња!



2. Повлечи ги линиите на симетрија на сликите!



3. Запиши ја положбата на објектите од шемата со квадратчиња!



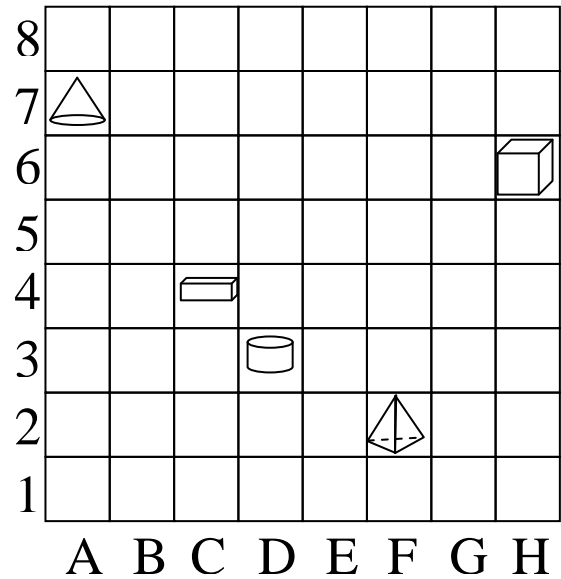
○ - (__ , __)

□ - (__ , __)

▭ - (__ , __)

△ - (__ , __)

☆ - (__ , __)



○ - (__ , __)

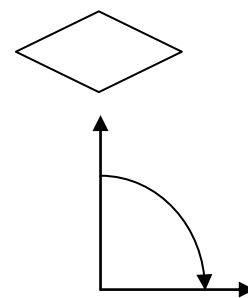
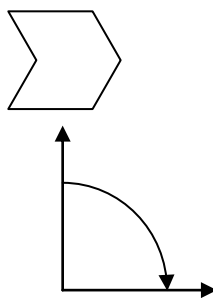
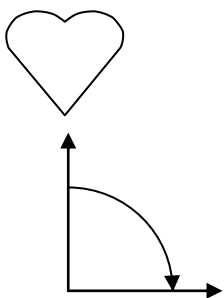
△ - (__ , __)

△ - (__ , __)

▭ - (__ , __)

□ - (__ , __)

2. Скицирај ја положбата на фигурата во која таа ќе се најде ако ја ротираме во насока на движењето на стрелките од часовникот за прав агол.



име и презиме _____