




1. Запиши ги вредностите на монетите кои ги употребуваме:



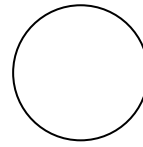
денар




денари



денари




денари




денари


2. Запиши ги вредностите на банкнотите кои ги употребуваме:




денари




денари




денари




денари



денари



денари



денари

За цртање на монетите во задачите употребувај круг и број во кругот кој ја означува вредноста на монетата, а за банкнотите употребувај правоаголник и број во правоаголникот кој ја означува вредноста на банкнотата.

3. Дадена е вредност од 19 денари со монети од 2 и 1 денар. Направи ја истата вредност со монети од 5 и 2 денари!



4. Употреби најмал број монети за да ја составиш вредноста од 87 денари!

5. Употреби најмал број монети и банкноти за да ја составиш вредноста од 373 денари!

6. Употреби најмал број банкноти за да ја составиш вредноста од 940 денари!


7. Формирај множество:

A - со вредност од 17 денари

B - со вредност од 25 денари

C - со вредност од 11 денари

D - со вредност од 21 денар



8. Нацртај го кусурот што треба да ти го вратат ако платиш со банкнота од 500 денари, сума од 136 денари!

10. Нацртај го кусурот што треба да ти го вратат **во монети**, ако платиш со банкнота од 500 денари, сума од 136 денари!

9. Нацртај го кусурот што треба да ти го вратат ако платиш со банкнота од 1000 денари, сума од 217 денари!

11. Нацртај го кусурот што треба да ти го вратат **во монети**, ако платиш со банкнота од 500 денари, сума од 217 денари!

име и презиме \_\_\_\_\_

<http://odnasataucilnica.com>