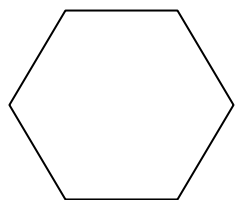
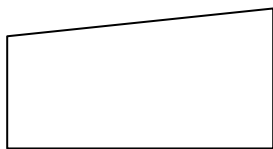


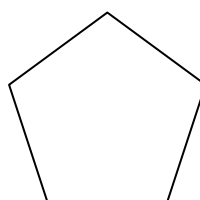
1. Под секој многуаголник, запиши го неговото име според бројот на аглите кој ги има.  
(триаголник, четириаголник, петаголник, шестаголник, седумаголник, осумаголник)



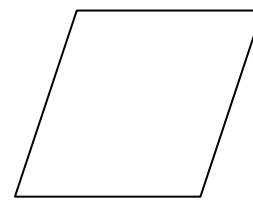
\_\_\_\_\_



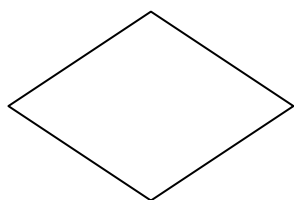
\_\_\_\_\_



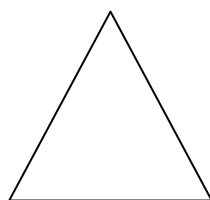
\_\_\_\_\_



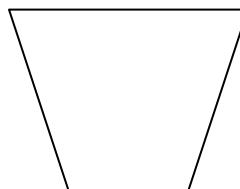
\_\_\_\_\_



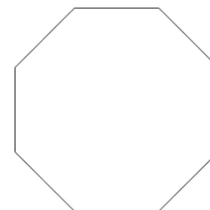
\_\_\_\_\_



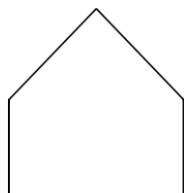
\_\_\_\_\_



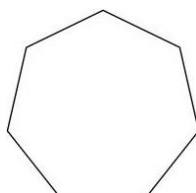
\_\_\_\_\_




\_\_\_\_\_



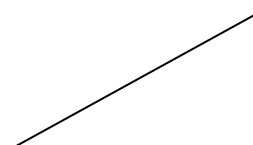
\_\_\_\_\_



\_\_\_\_\_




\_\_\_\_\_



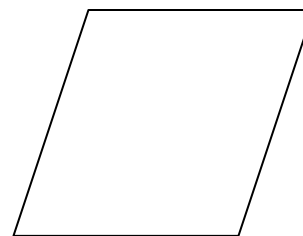
\_\_\_\_\_

**ЛИЧНА КАРТА**


Дополни ја личната карта на секој многуаголник.




име \_\_\_\_\_  
 број на агли \_\_\_\_\_  
 број на прави агли \_\_\_\_\_  
 број на тапи агли \_\_\_\_\_  
 број на остри агли \_\_\_\_\_  
 број на темиња \_\_\_\_\_  
 број на страни \_\_\_\_\_  
 број на страни еднакви по должина \_\_\_\_\_



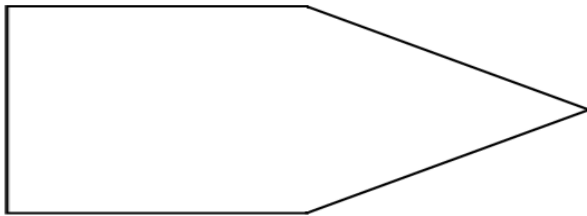
име \_\_\_\_\_  
 број на агли \_\_\_\_\_  
 број на прави агли \_\_\_\_\_  
 број на тапи агли \_\_\_\_\_  
 број на остри агли \_\_\_\_\_  
 број на темиња \_\_\_\_\_  
 број на страни \_\_\_\_\_  
 број на страни еднакви по должина \_\_\_\_\_




име \_\_\_\_\_  
 број на агли \_\_\_\_\_  
 број на прави агли \_\_\_\_\_  
 број на тапи агли \_\_\_\_\_  
 број на остри агли \_\_\_\_\_  
 број на темиња \_\_\_\_\_  
 број на страни \_\_\_\_\_  
 страни според должината \_\_\_\_\_



име \_\_\_\_\_  
 број на агли \_\_\_\_\_  
 број на прави агли \_\_\_\_\_  
 број на тапи агли \_\_\_\_\_  
 број на остри агли \_\_\_\_\_  
 број на темиња \_\_\_\_\_  
 број на страни \_\_\_\_\_  
 страни според должината \_\_\_\_\_

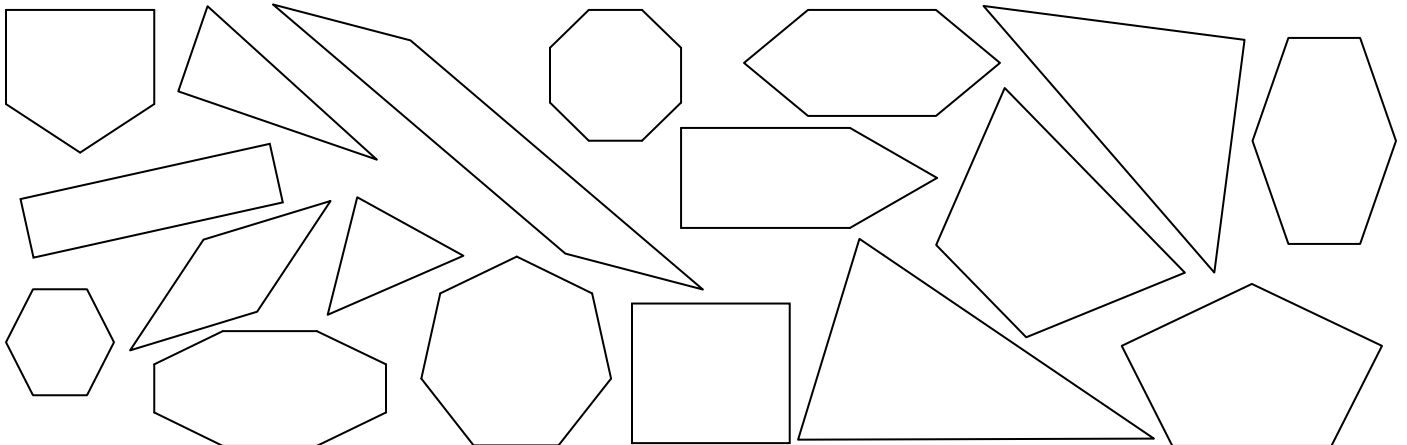


име \_\_\_\_\_  
 број на агли \_\_\_\_\_  
 број на прави агли \_\_\_\_\_  
 број на тапи агли \_\_\_\_\_  
 број на остри агли \_\_\_\_\_  
 број на темиња \_\_\_\_\_  
 број на страни \_\_\_\_\_  
 број на страни еднакви по должина \_\_\_\_\_



име \_\_\_\_\_  
 број на агли \_\_\_\_\_  
 број на прави агли \_\_\_\_\_  
 број на тапи агли \_\_\_\_\_  
 број на остри агли \_\_\_\_\_  
 број на темиња \_\_\_\_\_  
 број на страни \_\_\_\_\_  
 број на страни еднакви по должина \_\_\_\_\_

5. Со сина боја обој ги триаголниците, со црвена боја обој ги четириаголниците, со зелена петаголниците, со жолта шестаголниците, со виолетова седумаголниците, со портокалова осумаголниците!



име и презиме \_\_\_\_\_