
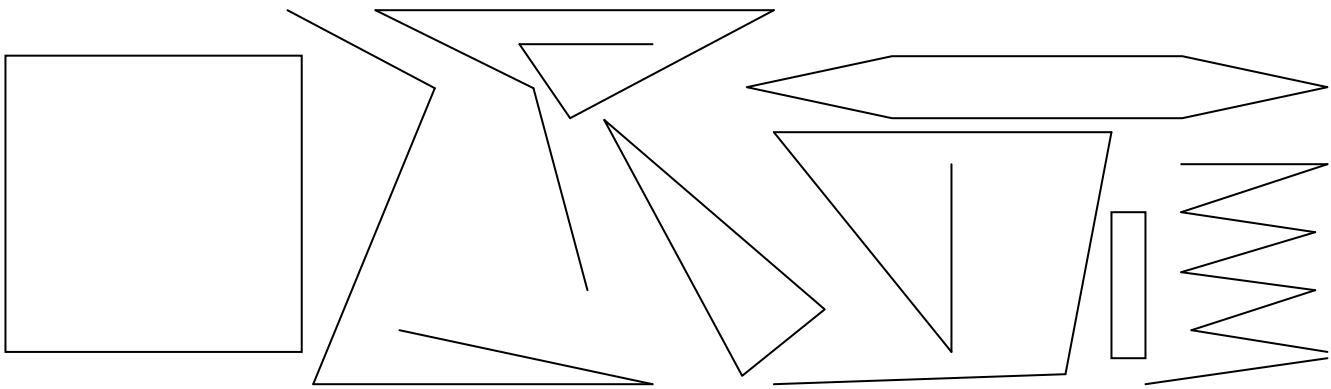


При работата употребувај линијар!

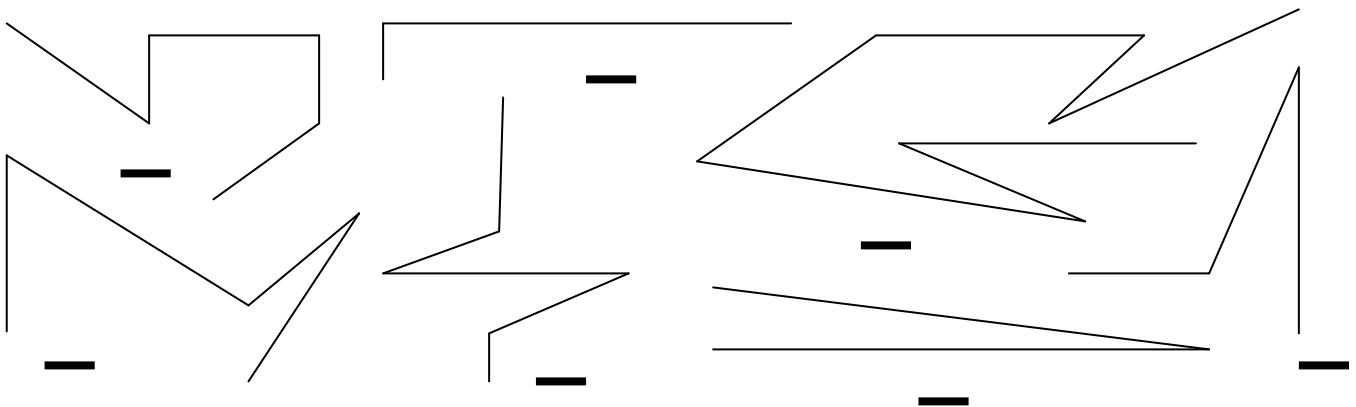
1. Искршените линии исцртај ги со **сина** боичка, а останатите со **црвена** !



2. Отворените искршени линиизначи ги со **✓**, а затворените искршени линиизначи ги со **✗** !



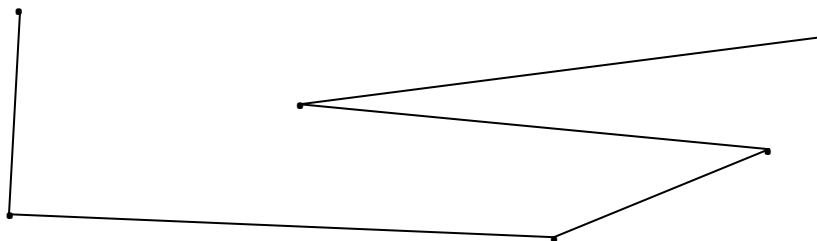
3. На линијата, под секоја искршена линија, запиши со број од колку отсечки е формирана истата!



4. Нацртај искршена линија составена од три отсечки и искршена линија составена од пет отсечки. Именувај ги!

5. Нацртај искршена линија QPRST со отсечки чии должини се: $QP=6\text{cm}$, $PR=4\text{cm}$, $RS=10\text{cm}$ и $ST=3\text{cm}$, а потоа пресметај ја нејзината должина!

6. Дополни ги тврдењата според сликата!



а. Именувај ја искршената линија на цртежот со латинските букви ABCDEF!

б. Искршената линија е составена од _____ отсечки.

в. Искршената линија има _____ точки.

г. Соседна отсечка на отсеката EF е отсечката _____

д. Соседни отсечки на отсеката BC се отсечките _____ и _____

име и презиме _____