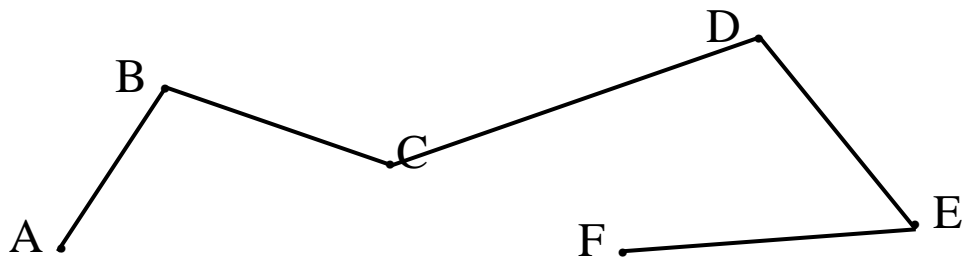
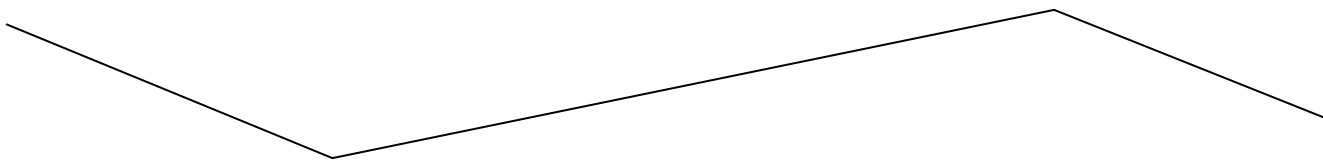


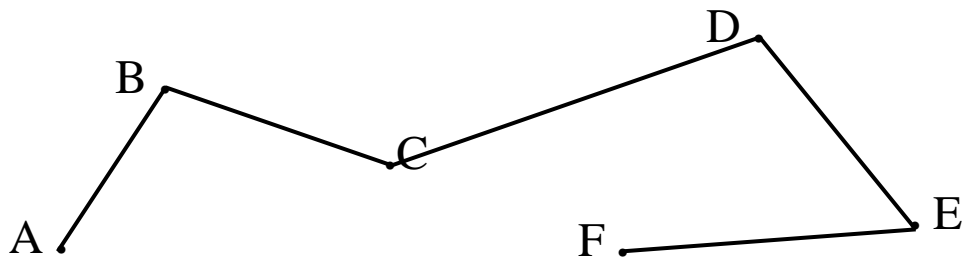
7. Запиши ги отсечките од кои е составена искршената линија!



8. Именувај ја искршената линија, а потоа пресметај ја нејзината должина!



9. Дополни ги тврдењата според сликата!



а. Именувај ја искршената линија! _____

б. Искршената линија е составена од _____ отсечки.

в. Искршената линија има _____ точки.

г. Соседна отсечка на отсеката AB е отсечката _____

д. Соседни отсечки на отсеката CD се отсечките _____ и _____

име и презиме _____